

# Klasse 1: Uhrzeit - 2

Name: \_\_\_\_\_

**Aufgabe 1:** Schreibe die richtige Zeit (0h bis 11:59)



\_\_\_\_\_ Uhr



\_\_\_\_\_ Uhr



\_\_\_\_\_ Uhr



\_\_\_\_\_ Uhr



\_\_\_\_\_ Uhr



\_\_\_\_\_ Uhr


**Aufgabe 2:** Schreibe die richtige Zeit (12h bis 23:59)



\_\_\_\_\_ Uhr



\_\_\_\_\_ Uhr



\_\_\_\_\_ Uhr



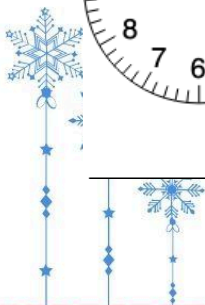
\_\_\_\_\_ Uhr



\_\_\_\_\_ Uhr



\_\_\_\_\_ Uhr



# Lösungen

## Aufgabe 1:



2:45 Uhr



11:00 Uhr




0:15 Uhr



5:30 Uhr



8:00 Uhr



10:45 Uhr

## Aufgabe 2:



18:15 Uhr



15:15 Uhr




14:45 Uhr



22:00 Uhr



13:00 Uhr



16:30 Uhr

